

Objetivo: Señalar el apartado o apartados que contengan faltas.

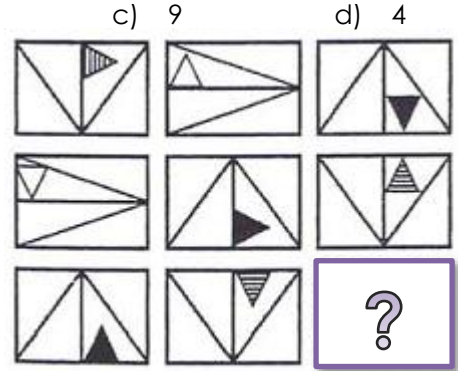
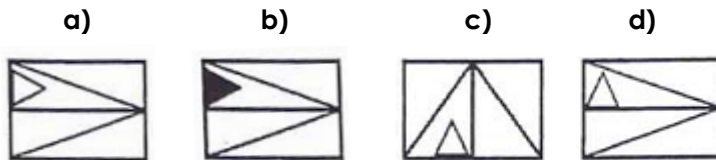
Duración: 5 minutos

- 1 Quiso rebisar la jeringa y tube que reir.  
A B C D
- 2 Los lacteos son beneficiosos para envellecer la hepidermis.  
A B C D
- 3 Incluía videos para excursionistas avezados.  
A B C D
- 4 La llovizna harreció cuando el ateo se santigüó  
A B C D
- 5 No sintió vergüenza al incluir te tivio en la comida.  
A B C D
- 6 Conserban los labios inchados y el bello erizado.  
A B C D
- 7 En el atajo a la hermita había un hatajo de hervíboros.  
A B C D
- 8 Eran dieciócho las abrebiaturas del lésico español.  
A B C D
- 9 Se enturvió el  río y ella rió.  
A B C D
- 10 La savia del ciruelo sabe a linimento.  
A B C D
- 11 Las mayas fugsia del magreví tenían agujeros.  
A B C D
- 12 La vaca es un vovino brabío similar al buéy.  
A B C D
- 13 Exibieron la urna con un humero bacuno.  
A B C D
- 14 Ayer hallaron hollos allí.  
A B C D
- 15 Los veceros y las vacas mugen y rumian.  
A B C D

Señala la palabra que **no pertenezca** al conjunto:


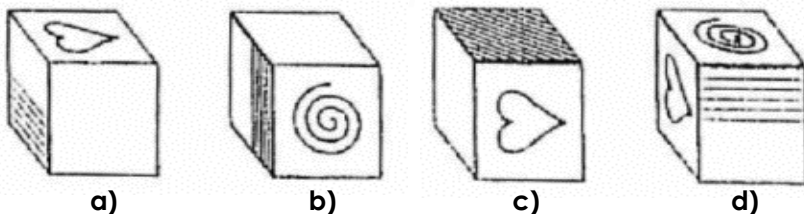
- |    | a)  | b)        | c)        | d)       | e)      |
|----|---|-----------|-----------|----------|---------|
| 1. | Editorial   | Periódico | Artículo  | Folletín | Crónica |
| 2. | Año   | Época     | Temporada | Hora     | Reloj   |
| 3. | Gato  | Perro     | Animal    | Caballo  | Oveja   |
| 4. | Los servicios de rescate de la Guardia Civil se enfrentan cada año a la eventual evacuación de un pueblo de montaña. El pasado año, utilizando los tres helicópteros de la base, se rescató al 100% de los habitantes en 4 horas, lo que provocó malestar entre los habitantes. Si se pretende efectuar la misma evacuación en 1 hora y 20 minutos ¿cuántos helicópteros de apoyo deben solicitarse además de los propios de la base? |           |           |          |         |

5. ¿Qué figura ocuparía el lugar de la interrogación?



Indica el número que falta en la serie.

- |     | a)   | b)      | c)       | d)       |
|-----|--|---------|----------|----------|
| 6.  | 25 23 21 25 - 19 25 21   | 20      | 25       | 22 23    |
| 7.  | 6 12 7 14 9 18 13 -  | 26      | 11       | 15 18    |
| 8.  | 22 17 12 27 23 - 32 29   | 7       | 22       | 19 18    |
| 9.  | María es más alta que Olga. Berta es menos alta que Marta. Las dos más bajas tienen el pelo rubio. Olga es morena. ¿Cuál es la más alta de las cuatro? |         |          |          |
|     | a) María   | b) Olga | c) Berta | d) Marta |
| 10. | Averiguar qué figura corresponde al desarrollo propuesto:  |         |          |          |



Señala el grupo de palabras que corresponde a los huecos.

11. \_\_\_\_\_ es a **CARBÓN** como **TESORO** a \_\_\_\_\_:
- a) Fuego Pirata      b) Leña Negro      c) Negro Perdido      d) Combustible Oro
12. \_\_\_\_\_ es a **LIMÓN** como **DULCE** es a \_\_\_\_\_:
- a) Agrio Café      b) Planta Sabor      c) Naranja Pomelo      d) Acido Melón
13. \_\_\_\_\_ es a **ONAGRO** como **CORNÚPETA** es a \_\_\_\_\_:
- a) Cardenal Lidia      b) Asno Toro      c) Buey Cabra      d) Oveja Ovino
14. ¿Cuál es el número tal que sus  $5/4$  y sus  $7/8$  difieren en 30 unidades?
- a) 45      b) 80      c) 75      d) 125
15. ¿Qué pieza encaja con el recorte del modelo?      a)      b)      c)      d)

