

Objetivo: Señalar el apartado o apartados que contengan faltas.

Duración: 5 minutos

1 Hay que desahuciar y desharraigar a la población indígena.

A B C D

2 La yegua se desvocó y descabalgó al ginete.

A B C D

3 Se desmayó cuando le descoyuntó el cuello.

A B C D

4 Deshuella a la hiena sin oir mis ruegos.

A B C D

5 El cohete se hizaba y desojaba las ramas de un quejigo.

A B C D

6 Los campesinos aullentaban a la vestia con orquillas y azadas.

A B C D

7 Fue veloz, audaz, ruin y habil.

A B C D

8 Al girar la llema del dedo del pié esbozó una sonrisa.

A B C D

9 El vicerector es bulgar y tiene una venda en el vazo.

A B C D

10 Con un jesto del genio surjirá una gema del equipage.

A B C D

11 Hierático y ambriento expiró en un hospital.

A B C D

12 Explicame como has cojido ese bulto.

A B C D

13 La evolución del evento evidenció la mala ebanistería.

A B C D

14 Se contubo ante el aluvión de bituperios.

A B C D

15 Corcoba, giba y joroba son palabras sinónimas.

A B C D

Señala la respuesta que mejor se adapta a la relación de la frase.

1. _____ es a PIERNA como CÚBITO es a _____:

- a) Brazo Cabeza b) Fémur Brazo c) Pie Dedos d) Balde cadera

2. ROMA es a _____ lo que ATENAS es a _____:

- a) Coliseo Polonia b) Italia Hungría c) Europa Rumania d) Italia Grecia

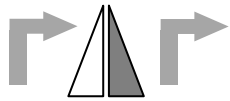
3. AGUA es a _____ como _____ es a AVIÓN:

- a) Beber Respirar b) Navegar Volar c) Barco Aire d) Navegar Aire

4. Para controlar errores en las instancias entregadas para el acceso a la oposición de la Guardia Civil, se realiza un control estadístico. De las 40000 instancias entregadas, se revisa un 3%, entre las cuales, se detectan errores en 180 instancias. ¿Qué porcentaje de las solicitudes revisadas no contiene errores?

- a) 85% b) 90% c) 10% d) 75%

5. Realiza las órdenes sobre la figura modelo e indica la figura resultante:



- a) b) c) d)

Realiza la operación:

6. $280 \times (-0,25) - 5 \times (-15)$ a) -145 b) -5 c) -840 d) 5

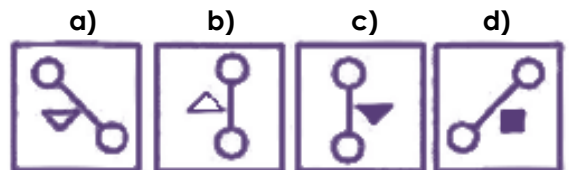
7. 1500 son los $\frac{3}{8}$ de ... a) 8000 b) 4000 c) 12000 d) 4500

8. $\sqrt{45}$ a) $3\sqrt{5}$ b) 7,1 c) $2\sqrt{5}$ d) $9\sqrt{5}$

9. Una empresa consta de 4 departamentos. En cada uno existe un gerente que tiene a su encargo a 10 empleados. Además, existe un departamento de dirección que consta del director general y 4 secretarios. ¿Cuántas personas hay en total en la empresa?

- a) 48 b) 44 c) 49 d) 39

10. ¿Qué figura continuaría la serie?



Señala la letra que corresponda al **sinónimo** de la palabra

11. **Ínfimo** a) Despreciable b) Pésimo c) Óptimo d) Considerable

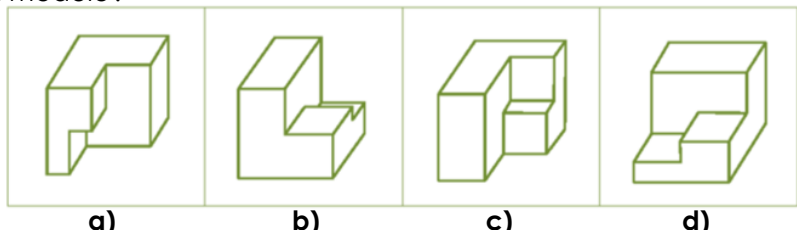
12. **Bravo** a) Listo b) Célebre c) Valiente d) Famoso

13. **Ganancia** a) Beneficio b) Favor c) Ayuda d) Precio

14. Observando el albarán de compra, vemos que hemos pagado 8,05€ por 5 cajas de cerezas, ¿cuánto costarán 18 cajas iguales? Señala la respuesta que más se aproxime.

- a) Menos de 30€ b) Más de 30€ c) Menos de 25€ d) Más de 25€

15. ¿Qué figura es igual a la del modelo?



- a) b) c) d)